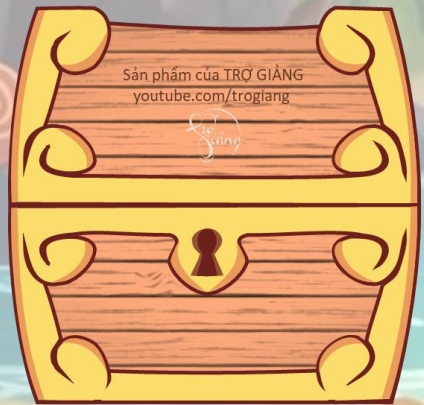


KHỞI ĐỘNG





TÌM KHO BÁU



Câu hỏi 1: Số?

$$15 - 7 = ?$$

1 ngôi sao

A: 8

C: 7

B: 9

D: 10



Câu hỏi 2: SỐ?

$$16 - ? = 7$$

A: 8

C: 10

B: 9

D: 0

3 ngôi sao



Câu hỏi 3: An có 12 quả cam, An mang cho em 3 quả cam. Hỏi An còn lại bao nhiêu quả cam?



A: 6 quả cam

C: 8 quả cam

B: 7 quả cam

D: 9 quả cam





KẾT NỐI TRI THỨC
VỚI CUỘC SỐNG

TOÁN

**BÀI 13: BÀI TOÁN VỀ NHIỀU HƠN,
ÍT HƠN MỘT SỐ ĐƠN VỊ**

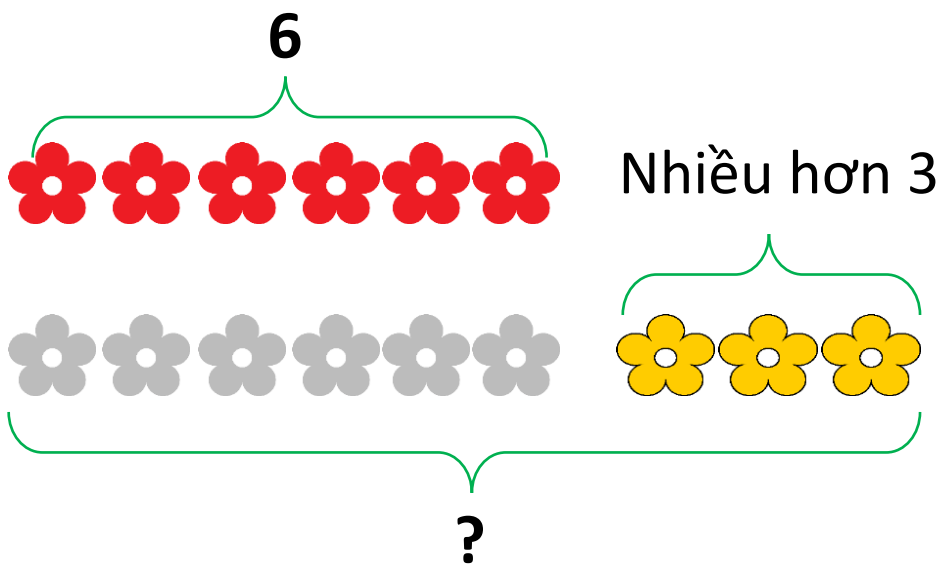
KHÁM PHÁ





Giải bài toán về nhiều hơn một số đơn vị

Có 6 bông hoa màu đỏ, số bông hoa màu vàng nhiều hơn số bông hoa màu đỏ là 3 bông. Hỏi có bao nhiêu bông hoa màu vàng?



Bài giải

Số bông hoa màu vàng là:

$$6 + 3 = 9 \text{ (bông)}$$

Đáp số: 9 bông hoa



**Các bước giải bài toán
nhiều hơn một số đơn vị:**

Bước 1: Tìm hiểu bài toán

Bước 2: Tóm tắt bài toán

**Bước 3: Trình bày bài giải
(Viết câu lời giải – phép tính – đáp số)**



Bài hát: Giải bài toán về nhiều hơn, ít hơn một số đơn vị



Design: Hương Thảo

HOẠT ĐỘNG





hoạt động

1

Trong một lớp học bơi có 9 bạn nam, số bạn nữ nhiều hơn số bạn nam là 2 bạn.
Hỏi lớp học bơi có bao nhiêu bạn nữ?



Tóm tắt

Nam : 9 bạn

Nữ nhiều hơn nam: 2 bạn

Nữ : ... bạn?

Bài giải

Số bạn nữ của lớp học bơi là:

$$\boxed{9} + \boxed{2} = \boxed{11} \text{ (bạn)}$$

Đáp số: $\boxed{11}$ bạn nữ.


- 2 Trên sân có 14 con gà, số vịt nhiều hơn số gà là 5 con.
Hỏi trên sân có bao nhiêu con vịt?

Tóm tắt

Gà: 14 con

Vịt nhiều hơn gà: 5 con

Vịt: ... con?



Bài giải

Số con vịt trên sân là:

$$14 + 5 = 19 \text{ (con)}$$

Đáp số: **19** con vịt.

VẬN DỤNG






non

Ong


học

việc



The little bee





Có 4 quả cam, số quả bưởi nhiều hơn số quả cam là 2 quả. Hỏi có bao nhiêu quả bưởi ?




A. 6

B. 5

C. 4

D. 3



Mai có 5 tờ giấy màu, My có nhiều hơn Mai 2 tờ giấy màu. Hỏi My có bao nhiêu tờ giấy màu?



A. 8

B. 7

C. 6

D. 5



Nam có 10 viên bi, Bảo có nhiều hơn Nam 5 viên. Hỏi Bảo có bao nhiêu viên bi ?

A. 5

B. 15

C. 10

HẸN GẶP

LẠI NHÉ!

Tiệm Bánh
Donut

